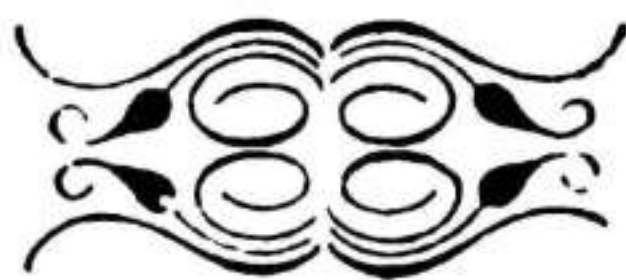


CATECISMO
DE
GEOGRAFÍA ELEMENTAL
PARA
LA PRIMERA EDAD.

POR

D. Florencio Sanz y Baeza,

*Secretario de S. M. y oficial 2.º primera
cesante del Ministerio de la Guerra.*



PAMPLONA.

Imprenta de Francisco Erasun y Rada. = Año de 1861.

La experiencia viene demostrando, que si bien la falta de libros oportunos es, en muchos distritos, causa de la ignorancia que se observa, en otros en que los hay produce el mismo resultado lo que cuestan. A estos dos extremos puede atribuirse que aun en poblaciones considerables carezcan los hombres de aquellos conocimientos, siquiera elementales, de que en geografía no debería carecer ninguno.

Efectivamente : en esta provincia no se enseña la geografía en los establecimientos de instrucción primaria sino en los de la Capital y en alguna otra Ciudad, porque según dicen los maestros, no hay asignatura de esto, y aunque muchos desean introducirla, imitando á las escuelas en donde este ramo se enseña á los niños aun de las aldeas desde antes que sepan leer ; pues en los principios lo hacen los profesores á viva voz, su celo se anota al contemplar que un libro de geografía dotado aunque no sea mas que de un solo Mapa, cuesta lo que no está al alcance de los recursos de los padres de los alumnos.

Los profesores de la Capital, personas las mas competentes para apreciar lo que conviene á los niños, forman de un estenso tratado de geografía, un pequeñísimo extracto, y este extracto que los alumnos se prestan unos á otros para copiar (y que algunos pagan diez y doce reales por una copia, aunque no al profesor) es un testimonio público de que ni todos pueden comprar el libro, ni es conveniente para ninguno de los de corta edad la estension, abundancia y detalles del libro.

Ademas , como los extractos no se imprimen , andan por las manos de los alumnos llenos de enmiendas, de borrones y defectos , ofreciendo el todo una consideracion muy triste al frente de lo que aconseja la utilidad del estudio elemental de un ramo tan recomendado para todas las carreras , como necesario á toda persona que aspire á presentarse en la Sociedad siquiera como medianamente educada.

Para llenar pues el vacio que observo , desterrando al paso los extractillos citados , hacer que aquello que se vea en las manos de los niños corresponda al decoro que se merece todo establecimiento público , y facilitar la estension de los conocimientos elementales del ramo , he formado este pequeño *Catecismo de Geografia* , y lo he dotado de nueve Mapitas que servirán para introducir la instruccion en la primera edad , y con ellos el conocimiento de los grandes Mapas que no se extraen de las aulas. No cuesta mas que tres rs. de vn. , y de aquí es facil deducir , que dándose por tan corta suma un catecismo con nueve Mapas, no hay en esto objeto ninguno de especulacion ; sin embargo costará menos si varian las circunstancias en que actualmente se halla este ramo de enseñanza , pues aquel precio se ha señalado atendido el corto número de ejemplares que podrán hoy colocarse.

Pamplona 2 de Enero de 1861.

Florencio Sanz.

CATECISMO DE GEOGRAFÍA.

Del Globo.

¿ **Q**ué se entiende por Geografía ?

Ciencia por la cual se conoce la estension de lo que llamamos *Mundo*, *Tierra* y *Globo terrestre*; la parte que en él ocupa cada nacion, su localidad topográfica, su temperatura, el número y costumbres de sus habitantes, las producciones de su suelo respectivo, y otras muchas particularidades.

En qué libros se estudia la Geografía ?

En tratados y descripciones del globo en general, y de cada una de sus partes en particular; con Mapas á la vista, en los cuales se vé delineado mucho de lo que se lee.

Qué figura tiene el Globo ó la Tierra ?

La de una pelota ó bola semejante á la bala de cañon, aunque un poco aplastada en dos puntos opuestos entre sí.

De qué se compone el Globo ?

De tierra y agua.

En qué proporcion ?

El agua ocupa como tres cuartas partes de toda la superficie.

Impiden las montañas que el Globo sea redondo ?

No Señor; pues las mayores montañas no tienen mas que ocho Kilómetros de elevacion, y esto es nada en proporcion de los cuarenta mil que tiene la estension. Apenas suponen las montañas en el

Globo, lo que en una naranja las pequeñas elevaciones de su corteza.

Cómo está marcado el Globo en los Mapas?

Del mismo modo que en pequeño se vé en el número uno de la 1.^a lámina de este libro.

Qué significan las palabras NORTE, SUR, ESTE y OESTE que se advierten en la lámina?

Para conocer la posición de cada país, la ciencia ha imaginado cuatro parages, que son aquellos cuatro, y se llaman *puntos cardinales*. El ESTE es el punto por donde nos parece que sale el Sol; pues es aquel en donde le vemos al principio del día: el OESTE es el parage en que al oscurecer se oculta á nuestra vista: el SUR indica el punto que ocupa á la mitad del día, y el NORTE es el opuesto al SUR.

Se conocen estos puntos con otros nombres?

Sí Señor: el NORTE se llama también *septentrion*: el SUR, *medio día*: el ESTE *Oriente y Levante*, y el OESTE, *Poniente y Occidente*.

Para qué son los otros nombres colaterales de estos?


Para precisar mas las localidades de los pueblos, y las variaciones con que llegan á ellos los vientos.

Que estension tiene la mayor vuelta del Globo?

Cuarenta mil Kilómetros, y trece mil de espesor.

En cuanto tiempo se podrá dar esa vuelta?

Un viajero que día y noche andubiera una legua por hora, la daría en un año y diez días; mas como no se puede ir en línea recta por falta de caminos, interposicion de mares y otros obstáculos, se nece-



sitan dos, y á veces tres años, pues es necesario viajar por mar y tierra.

Descansa el Globo sobre alguna cosa?

No Señor; está en el aire, y roda en el espacio sobre sí mismo con todos sus habitantes una vez al dia: ademas da vuelta en derredor del Sol, y esta vuelta le cuesta un año. †

† Pues si el Globo da vuelta sobre sí; en que consiste que no nos caemos al espacio en ninguna de sus vueltas?

Consiste en la fuerza de atracción que tiene la tierra sobre nosotros, como se notará esa atracción?

Observando la facilidad y la seguridad con que una hormiga ó cualquier otro insecto se para p. una veta cuando está debajo de ella.

Que estension tiene el espacio?

Solamente Dios lo sabe, ^{nadie} puede saberlo, ~~que~~ el no lo ve. El hombre no le es dado otra cosa q. la de comprender de algún modo p. la parte de inmensidad del espacio susceptible de su conocimiento, la inmensidad de Dios, su sabiduría y su poder.

Como se comprenderá esa parte de la inmensidad del espacio?

Contemplando que el Sol dista de nosotros treinta y cuatro millones y medio de leguas; q. el planeta Urano ^{se encuentra} ~~dista del Sol treinta y cuatro~~ millones, y las estrellas llamadas fixas distan del Sol veinte y siete mil veces mas que el Sol de nosotros.

Que es lo que inmediatamente rodea al globo terrestre?

Es una capa de aire à manera de cascara que tiene cerca de sesenta mil metros de espesor, la cual se llama Atmosfera y se comprende contemplando un huevo, la yema es el globo ó el mundo, y la clara es la atmosfera que lo cubre por todas partes.

Que tiene de notable la atmosfera?

Que en su seno tienen lugar los fenómenos que vemos, como las nubes, la lluvia, la nieve, el granizo, el trueno, el rayo, y el viento.

Pero que viene à ser lo que llaman Orizonte?

Es Orizonte la parte del espacio q. alcanzamos con la vista en todas direcciones.

Que es lo que produce la claridad en la tierra?

Es la Luz que nos viene del Sol, y que desde el punto q. ocupamos viaja en ocho minutos y ocho segundos los treinta y cuatro millones y medio de leguas que dista de nosotros.

Pero no da luz tambien la Luna?

Si Señor, pero esta y otros planetas aunque luminosos, nos la dan recibiendo la en su mayor parte del Sol.

Cuanto dista la Luna de la tierra?

Ochenta y seis mil leguas.

Cual es su volumen?

Es cincuenta veces menor que el de la tierra.

En que proporcion está la magnitud del Sol con la de la tierra?

El Sol es cerca de un millon de veces mayor q. el globo terrestre.

Que significan las curvas que se advierten en la figura del globo?

Noten curvas; son circulos completos que dan vuelta al globo. Las que bajan de Norte à Sur, segun se ven en la figura n.º 2. de dicha lamina, se llaman Meridianos; las que van del Este al Oeste Paralelos y se ven en la figura n.º 3 de la misma lamina. Todos son imaginarios pero de necesidad absoluta para conocer las localidades y posición de los pueblos y otras

circunstancias. Esceptúase de los círculos la línea céntrica que parece atravesar el Globo de un Polo al otro, pues se llama *Eje*.

Son muchos los Meridianos?

Si Señor, y todos pasan por las dos estremidades del Globo, que se llaman la del NORTE, *Polo Arctico*, y la del SUR *Polo Antártico*. Además, la línea que se vé en el centro como cortando todos los Meridianos, se llama *ECUADOR*, ó *línea equinocial*.

la igual
del tamaño
de un filo
que del otro

Cómo se demuestra la localidad ó distancia de un pueblo?

Se toma por base un Meridiano; se vé si el pueblo está en la latitud *Norte* ó *Sur*, y sabido esto, se vé cual es su longitud del Meridiano tomado por base. La latitud se cuenta desde el *Ecuador*, y de este modo la operacion marca los grados de latitud y longitud *Norte* ó *Sur* en que está el pueblo, para lo cual el Globo se halla distribuido en trescientos sesenta grados.

Qué significan los TRÓPICOS?

Indican dos cosas: la primera, que el espacio que hay entre el uno y el otro, es la *Zona Tórrida* ó ardiente: la segunda que el Sol no pasa de ellos en su aparente curso. Cuando el día 21 de Junio llega al Trópico de *Cáncer*, tenemos el Verano, y como entónces empieza su curso inverso, llega el 21 de Diciembre al Trópico de *Capricornio*, y tenemos el Invierno.

Y cómo se producen la Primavera y el Otoño?

Ese mismo movimiento los ocasiona. A medida que el Sol se aleja de nosotros, ó nosotros de él

desde el 21 de Junio , viene aproximándose el Otoño, y luego el Invierno: por el mismo orden segun desde el 21 de Diciembre viene el Sol hácia nosotros , así vienen la Primavera y el Verano.

Qué es *Zona*?

Es una parte del Globo , ya se la considere en estension , ó ya en temperatura.

En cuántas Zonas está dividido el Globo?

En cinco , que son dos glaciales , dos templadas , y una tórrida ó ardiente.

De qué proviene esta diversidad ?

Del límite en que el Sol hace su curso. Es ardiente el Espacio ó Zona que existe entre los Trópicos , porque el Sol no sale de él : son menos calientes las dos Zonas laterales de los Trópicos porque el Sol las hiere menos , ó como suele decirse , de costado , y son glaciales ó heladas las de los Polos por lo mucho que dista el Sol de ellas.

En qué Zona está la Europa ?

En la templada del Norte , ó Septentrional.

Qué Naciones de Europa son las mas cercanas de la Zona Tórrida ?

El Portugal , la España , una pequeña parte de la Francia , la Italia , la Grecia y la Turquía Europea.

Se ve en la figura de la lámina puesta antes todo lo que contiene el Globo ?

No Señor ; no se ve lo que hay debajo de él , á cuyos países alumbrá el Sol cuando entre nosotros es de noche , y para verlo se divide el Globo en dos partes ó frentes iguales como se demuestra en la lámina número 2.

¿Qué es un
 Volcan?
 Es una montaña
 que vomita fue-
 go, y se llama
 así porque
 se ve el humo
 salir de ella.
 ¿Qué son los
 volcanes?
 Son montañas
 que vomitan
 fuego.
 ¿Qué es un
 continente?
 Es una gran
 extensión de
 tierra que no
 se junta con
 otras por causa
 del mar.
 ¿Cuántos continen-
 tes hay?
 Dos que son el
 antiguo y el
 nuevo; sin em-
 bargo los escri-
 tores modernos
 dan también el
 dictado de con-
 tinentes á la
 nueva Holanda
 ó Australia, que
 es tan estensa
 como la Europa,
 y de este modo
 señalan tres
 continentes.
 ¿Qué parte del
 Globo contiene
 el antiguo conti-
 nente?
 La Europa, el
 Asia y el Africa,
 pues de un
 punto á otro se
 va sin tocar en
 el mar.
 ¿Qué parte con-
 tiene el nuevo?
 Las Américas.
 ¿Cuál es el ter-
 cer continente?
 La Australia ó
 nueva Holanda,
 del cual apenas
 se conoce otra
 cosa que sus
 costas, aunque
 se sabe que el
 resto está habi-
 tado por indige-
 nas salvages.
 También se
 conoce este
 continente con
 el nombre

Tienen nombres esos frentes?

Sí Señor; se llaman *Hemisferios*, y así como en el nuestro están la Europa, el Asia, el Africa y la nueva Holanda, en el otro se ven las Américas.

* ~~Qué son los antipodas?~~

~~Son los hombres que habitan en la tierra en pa-
 rages enteramente opuestos.~~

CONTINENTES, MARES, GOLFOS, LAGOS, RIOS, ESTRECHOS.

¿Qué es un CONTINENTE?

Es una estension de tierra que no se junta con otras por causa del Mar.

Cuántos continentes hay?

Dos que son el antiguo y el nuevo; sin embargo los escritores modernos dan tambien el dictado de continente á la nueva Holanda ó Australia, que es tan estensa como la Europa, y de este modo señalan tres continentes.

¿Qué parte del Globo contiene el antiguo continente?

La Europa, el Asia y el Africa, pues de un punto á otro se va sin tocar en el Mar.

¿Qué parte contiene el nuevo?

Las Américas.

¿Cuál es el tercer continente?

La Australia ó nueva Holanda, del cual apenas se conoce otra cosa que sus costas, aunque se sabe que el resto está habitado por indigenas salvages. Tambien se conoce este continente con el nombre

de *Oceania*, pues aquella nueva Holanda es como la Reina de un gran número de Islas que hay en esta parte del Océano Atlántico.

Cuántos Mares hay?

Propiamente hablando no hay mas que uno, porque todas las aguas saladas que lo forman se comunican entre sí. No obstante esto, la gran masa que componen esas aguas, está designada en cinco partes que se llaman *Océano Atlántico*, el cual baña parte de las costas de Europa, de Africa y de América: *Gran Océano* ó *Pacífico* que baña otra parte de América, de Africa, de Asia, y la *Oceania*: *Océano Indio*, que está al Sur del Asia: *Océano glacial Norte* que rodea al Polo Norte y parte de la Europa, de Asia y de América, y *Océano glacial Sur*, en el cual apenas se conoce ninguna tierra.

Cómo pues hay tantos Mares?

Llámanse Mares las partes de esos Océanos que se acercan á la tierra, y de aquí vienen los que se conocen con los nombres de Mar Mediterráneo, Mar Adriático, Mar Blanco, Mar Báltico, Mar Negro, Mar de Mármara, Mar Rojo y otros, así como Archipiélagos.

Y qué es un Archipiélagos?

Es un Mar en el cual se encuentran muchas islas próximas unas de otras.

Qué es un Golfo?

Es una porcion de Mar que se prolonga hácia la tierra.

Qué es un Lago?

Es una cantidad de agua rodeada de tierras.

Cuáles son los golfos mas considerables?

El de Leon, y el de Gascoña en las costas de Francia, el Pérsico entre las de Persia y la Arabia, el de Finlandia en las de Rusia, el de Guinea en Africa, el de Bengala entre el Indostan y el Indo-chino.

El que es un torrente? Es un curso de aguas en bajada de las montañas y de las paises húmedos y lluviosos de las nieves cuando se deshielan.

Cuáles los lagos muy notables?

El Ladoga y el Onega en Rusia, el de Ginebra en Suiza, el Mayor y el de Como en Italia. #

Qué es un Rio?

Es una gran corriente de agua que se introduce en el Mar, y tambien se llaman rios las aguas corrientes que se le unen durante su curso, si las cantidades son grandes; si son pequeñas se llaman arroyos.

Cuáles son los rios principales del mundo?

En Europa el Danubio que atraviesa la Alemania y la Ungria y entra en el Mar Negro; el Rin en la misma Alemania; el Vistula en Polonia; el Támesis en Inglaterra. En Asia lo son el Amarillo y el Azul que riegan la China; el Ganges y el Indo, que bajan de los monte imalayas; el Tigris y el Eúfrates, que saliendo de la cordillera del Cáucaso, entran en el Golfo Pérsico. En Africa el Nilo, que baña la Abisinia, la Nubia y el Egipto; el Niger y el Zairo llamado tambien Congo. En América el San Lorenzo, el Misipipi, el Orenoque y sobre todos el Amazonas, pues es el mayor de todos los del mundo.

Misipipi

¿Qué es una Catarata? es una cascada de agua que cae de un alto elevación. Hay muy notables, como la de Guayana en las paises por la parte de América tiene un gran de elevación y una de las del Nilo 300.

ISLAS, PENÍNSULAS, CABOS, ITSMOS, ESTRECHOS
Y MONTES.

¿ **Q**ué es una Isla?

Es una porcion de tierra enteramente rodeada de agua ; pero si por algun punto falta el agua , y por este parage aquella tierra se junta á un continente , ya no se llama Isla sino *Peninsula*.

Y si por el contrario se introduce en el Mar una lengua de tierra de una Nacion ó Provincia ; cómo se llama esta punta?

Llámanse *Cabo* ; pero si tiene mucha elevacion se llama *Promontorio*.

Cuáles son las Islas principales?

La *gran Bretaña* y la *Irlanda* que están al Poniente de Europa ; la *Sicilia* y la *Cerdeña* entre la Europa y Africa ; *Madagascar* al Sur de Africa ; la *Islandia* , pais glacial y *Terranova* al Norte de America. *Cuba* entre la América meridional y la Septentrional ; el *Japon* al Oriente de Asia ; *Sumatra* , *Java* , *Manila* y *Borneo* entre el Asia y la nueva Holanda. *Puerto Rico* en las Antillas.

A qué llaman Antillas?

A las Islas de Cuba , Puerto Rico , Haiti , la Jamaica y otras que hay entre las dos Américas.

Cuáles son las Penínsulas mas considerables?

La *España* y el *Portugal* ; la *Suecia* y la *Noruega* ó Scandinabia ; el *Jutlan* en Dinamarca ; la *Morea* en Grecia ; la *Crimea* en Rusia ; la *Italia* , la *Turquia* Europea , la *Greolandia* ~~en Asia~~ , y la del

Labrador, estas dos en la América Septentrional, y la de *Malaca* en Asia.

Qué Cabos y Promontorios son las mas notables?

El *Norte* en Suecia; el *Hogue* en Francia; el *Finisterre* y el de *Creus* en España; el *San Vicente* en Portugal; el *Matagan* en Grecia; el de *Buena Esperanza* en Africa, el de *Hornos* en la América meridional; el *Faro* y el *Spartivento* en Sicilia.

Qué es un *Itsmo*?

Es una porcion estrecha de tierra entre dos Mares, que une dos continentes.

Cuáles son los *Itsmos* principales?

El de *Suez* que pone en contacto el Africa con el Asia: el de *Corinto* que junta la Morea á la Grecia: el de *Perecop* que une la Crimea con la Rusia, y el de *Panamá*, que junta las dos Américas.

Qué es un *Estrecho*?

Es una garganta de agua que junta dos Mares.

Cuáles son los *Estrechos* principales?

El de *Gibraltar*, que une el Mar Mediterráneo con el Occéano Atlántico entre España y Africa: el de los *Dardanelos* que junta el Mediterráneo con el Mar de Mármara: el de *Constantinopla* que une el Mar de Mármara con el Mar Negro; el de *Calais* que une el Mar del Norte con el Atlántico entre Inglaterra y Francia, el de *Bering* que une el Mar de Bering con el Occéano glacial entre la Siberia y la América Septentrional, y el *Sund* que junta el Mar Báltico con el del Norte.

Qué Cordilleras ó cadenas de montañas son las mas notables?

La de los *Alpes* entre Francia, Italia y Alemania: los *Apeninos* en Italia: los *Pirineos* entre España y Francia: los *Cárpatos* entre la Polonia y la Ungría: los *Urales* entre Rusia y Asia; el *Cáucaso* entre el Mar Negro y el Mar Caspiano: los *Altaites* entre la Siberia y la Tartaria; los *Himalayas* al Norte de la India: el *Atlas* al Norte de Africa y los *Andes* en la América Meridional.

Cuáles son los montes mas elevados de estas Cordilleras?

El *Blanco* en los Alpes, pues se eleva 4800 metros sobre el nivel del Mar y es el mas alto de Europa: el *Sorata* en los Andes, en América, cuya elevacion es de 7700 metros, y en los Himalayas hay montes que se elevan hasta 7820 metros sobre dicho nivel.

Se distinguen en los mapas las partes de tierra y agua que ha descrito V. como Continentes, Islas, Penínsulas y demás?

Sí Señor, y puede verlo en la lámina número 3.

RAZAS, RELIGIONES, POBLACION, GOBIERNOS.

¿De cuántas razas de hombres está poblado el Mundo?

De tres principales que son la blanca, la amarilla ó cobreña, y la negra, de las cuales derivan otros colores que mas ó menos se les aproximan.

En que se distingue ademas del color, la raza blanca?

En que los hombres tienen la cara y la cabeza ovaladas, la boca poco rasgada, el cabello largo, delgado y suave, y las facciones regulares.

En dónde habita esta raza?

Habita principalmente en Europa, al Oeste de Asia, en el Norte de Africa y en muchos puntos de la América, en estos por el gran número de europeos que se establecieron en ellos.

En qué mas que el color se distingue *la raza amarilla*?

En que los hombres tienen la cara ancha, la cabeza redonda, la boca rasgada, la nariz aplastada, los ojos largos y estrechos, poco cabello y este negro y áspero, así como las mejillas muy salientes.

En dónde habita esta raza?

Principalmente en el Norte de Asia.

En qué se distingue *la raza negra*?

*
 ¿Que son las
 razas?
 son los hom-
 bres que se
 diferencian
 por su color
 y sus rasgos
 físicos.
 Hay tres
 principales:
 la blanca,
 la amarilla
 y la negra.
 Cada una
 tiene sus
 características
 físicas y
 morales.
 La blanca
 es la más
 avanzada,
 la amarilla
 es la más
 primitiva
 y la negra
 es la más
 salvaje.
 Pero esto
 no quiere
 decir que
 todas las
 razas
 sean
 iguales
 en todas
 las cosas.
 Hay
 diferencias
 en su
 inteligencia,
 en su
 moralidad,
 en su
 cultura,
 etc.

En que los individuos de ella tienen la piel negra, la frente aplastada, las mandíbulas muy abanzadas, los labios gruesos, los dientes largos, y muy negro, corto, espeso y lanoso el cabello.

En dónde habita esta raza?

En una gran parte del Africa, y al Sur de la Oceanía. Además en todas las naciones se encuentran algunos ejemplares mas ó menos aproximados á estas razas. *

Qué población tiene el Mundo?

Todos los escritores dan guarismos diferentes, porque no todos han podido hacer unas mismas observaciones, ni penetrar en los países salvages;

pero los que parecen mejor fundados la fijan en unos novecientos diez y seis millones de individuos.

Cómo viven estos hombres?

Los unos llamados *salvajes*, habitan en cuebas, y toda su industria está reducida á la caza, y á la pesca: otros se llaman *nómades*; estos crían ganados, y andan de unos puntos á otros por la necesidad de los pastos para sus rebaños: viven en chozas de pieles y ramages que fabrican en los puntos en que se fijan temporalmente: los demas se llaman *civilizados*; estos habitan en ciudades, villas, lugares y caseríos; ejercen la agricultura y el comercio, y cultivan las ciencias y las artes.

Qué religiones profesan los hombres?

Aunque no hay, ni puede haber mas que una religion porque Dios es uno solo, llaman religiones, no solo á esa que es el cristianismo, sino tambien al Paganismo, al Mahometismo y al Judaismo.

En qué proporcion de número estan las unas respecto de las otras?

La religion *cristiana* se profesa por unos cuatrocientos veinte millones de individuos, comprendiéndose en estos los protestantes y cismáticos: el *Paganismo* lo profesan trescientos setenta millones; el *Mahometismo* ciento y veinte, y el *Judaismo* seis millones.

Cuál de todas es la verdadera?

La Cristiana, Católica, Apostólica, Romana, cuyo Gefe ó cabeza visible en la tierra, es el Papa que reside en Roma.

En qué consiste que todos los cristianos no son Católicos?

pues es
la que
de la
los de
Temorito,

En que siendo la Doctrina Católica el mejor freno para contener y aun desterrar las malas pasiones, ha habido hombres que han establecido otras doctrinas favorables á las pasiones; pero doctrinas en que tampoco están conformes en el todo los separados de la Católica, pues cada secta, como por ejemplo la de protestantes, está dividida en un gran número de comuniones, muy discordes entre sí.

Qué clase de gobierno hay en el Mundo?

Son muchas y diversas sus formas; pero se resumen en cuatro, que son el *gobierno despótico*, en el cual manda el gefe ó cacique segun su voluntad.

En qué parte del Globo existe este gobierno?

En la mayor parte del Africa, en muchos distritos del Asia y de la Oceania, y generalmente en los países bárbaros.

Cuál es la segunda clase de gobierno?

El *Monárquico absoluto*, en el cual manda el Soberano dirigido por Ministros y Tribunales Supremos compuestos de hombres sábios.

En dónde existe esta clase de gobierno?

En varias naciones de Europa como Rusia, Prusia, Austria y Nápoles.

Cuál es la tercera clase de gobierno?

El *Monárquico Constitucional*. En este gobierna el Soberano sometido á una Constitucion hecha por Córtes ó Cámaras representantes de la Nacion.

En dónde existe este gobierno?

En España, Inglaterra, Francia y otras naciones de Europa.

Cuál es la cuarta clase?

El *Republicano* que lo constituyen individuos delegados por la Nacion, y su gefe es un **Presidente** electivo lo mismo que aquellos.

En dónde existe este gobierno?

En las Repúblicas de las dos Américas.

DE LAS PARTES DEL GLOBO.

¿ **E**n cuántas partes se divide el Mundo?

En cinco, que son Europa, Asia, Africa, América y Oceanía.

EUROPA.

¿ **Q**ué figura tiene el suelo de la Europa?

La que se manifiesta en la lámina número 4.

Qué tiene de mas notable la Europa?

Que no obstante ser la parte mas pequeña de las cinco, es la mas civilizada, la mas adelantada en las ciencias y las artes, la mas habitada y mejor cultivada, la mas comercial é industrial, y la de mejores y mas valientes ejércitos. +

Qué número de habitantes tiene?

Sobre doscientos treinta y un millones.

Cuáles son sus limites?

Al NORTE el Occéano glacial: al SUR el mar Mediterráneo: al ESTE el Asia, y al OESTE el Occéano Atlántico.

Qué temperatura es la de Europa?

Fria en el Norte, y templada en el resto.

De cuántos Reinos ó Naciones se compone la Europa?

¿ Cuántos Reinos ó Naciones se componen de Europa? +

De muchas; pero las principales son diez y siete, situadas cinco al Norte, siete en el centro, y cinco al Sur.

Cuáles son las del Norte?

Son *Inglaterra* cuya Capital es Londres: *Dinamarca*, su Capital Copenhagüe, *Noruega*, Capital Cristiana: *Suecia*, Capital Stockholmo, y *Rusia*, su Capital Sampetersburgo.

Cuáles son las del centro?

Francia, su Capital París: *Bélgica*, Capital Bruselas: *Holanda*, Capital Haya: *Suiza*, dividida en Cantones, cuyas ciudades principales son Basilea, Berna, Neufchatel, Zurit, Friburgo y Ginebra. *Austria*, su Capital Viena: *Prusia*, su Capital Berlin: *Alemania*, distribuida en Estados de que son Capitales Hamburgo, Hannobre, Dresde, Francfort, Sturgard y Munich.

Cuáles son las del Sur?

Portugal, su Capital Lisboa, *España*, su Capital Madrid: *Italia*, dividida en diversos Reinos y Estados, cuyas Capitales son del *Piamonte* ó *Cerdeña*, Turin: de la *Lombardia* Milan: del *Veneto* Venecia: de las *dos Sicilias* Nápoles: de los *Estados Pontificios* Roma: de *Parma* y *Módena* Parma: y de *Toscana* Florencia. *Turquía Europea* su Capital Constantinopla, y *Grecia* Capital Atenas.

Cuáles son las principales producciones del suelo de Europa?

Toda clase de cereales, granos, legumbres y verduras: frutas aun de plantas exóticas: vino, aceites de oliva, de colza y de otras clases; plantas

téxtiles, tintóreas y medicinales; minerales metálicos, mármoles, alabastros, bueyes, carneros, cabras, venados, ganados mular, de cerda, caballar y asnal, cera, miel, seda, maderas, carbones, pleita, pita, lino, cáñamo y animales feroces, estos en número insignificante comparado con el de cualquiera otra parte del mundo.

Cuáles son las producciones de su industria?

Toda especie de hilados, de tejidos, de blondas y encajes; máquinas, barcos, muebles, armas, instrumentos de agricultura, de guerra, de ciencias, de artes y de todos los oficios; caminos de hierro, canales y edificios, desde los mas comunes hasta los palacios mas sumptuosos.

ASIA.

¿Qué figura tiene el suelo de Asia?

La que se indica en la lámina número 5.

Qué tiene de notable el Asia?

Que en ella tubo su origen el género humano, y en la misma se profetizaron y cumplieron los principales misterios de nuestra Santa Religion; pero hoy en su mayor parte se desconoce al verdadero Dios.

En ella tubo tambien su origen el Mahometismo.

¿Qué número es el de los habitantes de Asia?

Quinientos noventa millones.

¿Qué temperatura tiene?

Éstremadamente opuesta; muy fria al Norte, y muy calorosa en el centro y al Sur.

Cuáles son sus límites?

+ ¿cuál es su extensión? Dos mil de longitud al oriente y al occidente. 1900 de latitud al Sur.

/ su

Al NORTE el Occéano glacial: **al SUR** el Mar de las Indias: **al ESTE** el gran Occéano, y **al OESTE** la Europa y el Africa.

Cómo está distribuida?

Lo está en muchos y grandes distritos: los principales son **al NORTE** la Siberia, país muy frío que pertenece á la Rusia: **al ESTE** la China y el Japon: **al OESTE** la Turquía de Asia que encierra la Tierra Santa, la Arabia bañada por el Mar Rojo, la Persia y las Indias; y **al SUR-ESTE** el Hindostan, el Indó-chino, y el Belouchistan.

Qué clases de hombres habitan el Asia?

Los Permiades, los Jacontos de raza tártara, Turcos, Georgianos, Maleses, Chinos, Samvidas, Arabes y Persas, así como muchos colonos europeos.

Cuáles son las Capitales del Asia.

En la *Siberia* Tobolsk: en el *Cáucaso* Tiflis: en el centro Kintahie, Búcara, Pekin y Yedo: en el *Sur* la Meca, patria de Maoma: Teheran, Caboul, Kelat, Calcuta y Ava.

Cuáles otras Ciudades notables?

Erivan, Smirna, Angora, Brusa, Scutari, Trevisonda, Damasco, Jerusalem, lugar en donde se consumó la redencion del género humano, Medina en la que está el sepulcro de Mahoma; Nankin, Antioquía, Canton, Macao, Ur Patria de Abraham, Belen donde nació N. S. Jesucristo, Goa, Siam, Malaca y otras.

Cuáles son las principales producciones del Asia?

Azucar, té, café, dátiles, especias, gomas, aromas, seda, algodón, pieles, oro, plata, cobre,

platina, diamantes, bueyes, búfalos, renos, camellos, elefantes, rinocerontes, martas, monos, tigres, leones, hienas, faisanes y abestruces.

AFRICA.

¿Qué figura tiene el Africa?

La que se vé en la lámina número 6.

Qué hay de mas notable en Africa?

La ignorancia y la ferocidad en el mayor número de sus distritos, pues hay algunos en donde llega hasta el extremo de que sus habitantes se hacen la guerra unos á otros, y ponen por adorno de sus habitaciones los cráneos de los vencidos.

Qué poblacion tiene el Africa?

Sobre cien millones de individuos.

Cuál es su temperatura?

Ardiente y seca, no obstante sus lluvias periódicas.

Cuáles son sus limites?

Al NORTE, el Mar Mediterráneo: al SUR, el Océano Austral: al ESTE, el Istmo de Suez, el Mar Rojo y el de las Indias, y al OESTE, el Océano Atlántico.

Se conoce enteramente el Africa?

No Señor, pues hay mucho desconocido todavía. Cuando se entra en ella por la parte que confina con el Mediterráneo se encuentran pueblos y colinas fértiles, situados al pié del Atlas; pero en pasando esta Cordillera se llega á un inmenso desierto llamado *Sahara* que se calcula tener sobre mil leguas

de largo y doscientas cincuenta de ancho. Es una llanura arenosa, privada de agua y de verdura, y abrasada por los rayos del Sol.

Cómo está distribuida el Africa?

Se conocen muchos distritos, y son al NORTE hácia el rio Nilo, el *Egipto*, la *Nuvia*, y la *Abisinia*: al NORTE hácia el mar Mediterráneo, la *Berberia* que abraza las regiones de *Tripoli* y *Tunez*, la *Argelia* ocupada por los franceses y el Imperio de *Marruecos*. Al OESTE hácia el Occéano Atlántico, la *Senegambia* y las dos Guineas superior é inferior: al SUR la colonia Inglesa del *Cabo de Buena Esperanza*, el pais de los *Hotentotes* y el de los *Cafres*: al ESTE el *Mozambique* y el *Zanguebar*, y en el centro la *Nigricia*.

Qué clase de hombres habitan el Africa?

Arabes, Turcos, Moros, Europeos y muchos semi-salvages. Generalmente en las costas son de color tostado, y en el interior y en las Guineas negros.

Cuáles son las poblaciones mas notables de Africa?

Al NORTE en *Berberia* Trípoli, Tunez, Argel, Melilla y Ceuta (estas dos plazas son de España) Tetuan y Tanger. En el interior de esta costa Fez, Marruecos y Tafílete. En el *Egipto* el Cairo, Roseta, Alejandria y Suez. En la *Guinea inferior* San Salvador, en la *superior* Coumasia: en la *Nigricia* Timbuton y Segó: en la *Nuvia* Senar: en el *gran desierto* Aghably: en el *Mozambique* la poblacion de este nombre: en la *colonia del Cavo* el Cavo: en la *Cafreria* Masing: en la *Senegambia* San Luis: en

la *Abisima Gondar*, *Adel* y *Zeila*: y en el *Zanguebar* *Melinde* y *Quiloa*.

Cuales son las producciones principales del Africa?

Trigo, melones, dátiles, naranjas, higos, tamarindos, polvo de oro, cobre, marfil, leones, tigres, hienas, panteras, leopardos, camellos, dromedarios, girafas, búfalos, caballos, mulas, asnos, abestruces, monos y serpientes enormes. En algunas de sus costas se pesca el coral, y en sus lagos hay grandes cocodrilos.

AMÉRICA.

¿Qué figura tiene la América?

La que se manifiesta en la lámina número 7.

Qué tiene de mas notable la América?

Que hasta ahora tres siglos y medio fué un pais ignorado, que los españoles lo descubrieron, le dieron el nombre de *Nuevo Mundo*, é introdujeron y propagaron en él la Religion Católica.

Qué hallaron de mas sorprendente?

Dos Imperios importantes por el grado de su civilizacion: el de *Méjico* que conquistó Cortés y cuyo Soberano era *Motezuma*, y el del *Perú* ó de los *Incas*, cuya conquista hizo *Pizarro*.

Se comunican el uno con el otro?

Sí Señor, pues forman un continente conocido hoy con los nombres de América *Septentrional* y América *Meridional*, unidas por el Istmo de Panamá.

Qué número de habitantes tiene la América SEPTENTRIONAL?

Sobre veinte y tres millones y seiscientos mil.

Cuáles son sus límites?

Al *Norte* el Océano glacial Artico: al *Sur* la América Meridional: al *Este* el Océano Atlántico, el golfo de Méjico y el Mar de las Antillas, y al *Oeste* el gran Océano.

Qué temperatura es la suya?

Muy variada por causa de su estension. Inviernos mas frios y Veranos mas ardorosos que bajo sus latitudes correspondientes de Europa.

Hay alguna diferencia en la raza de sus habitantes?

Hay muchas diversidades de color, así como dos muy notables, que son la de los *Greolandos*, individuos los mas pequeños del género humano, y los *Albinos* ó *Esquimatos*, que habitan en distritos muy próximos al Polo Norte, y generalmente tienen en todas las edades el cabello blanco.

Cuáles son los distritos principales de esta América?

Son el llamado *América rusa*, en la que se encuentra un volcan en medio de las nieves, su Capital es nueva Arcangel: la *Greolandia* Capital Frederikshal: la *nueva Bretaña* y el *Canadá* que pertenecen á los ingleses, su Capital Quevek: los *Estados unidos* su Capital Washington: la república de *Méjico*, su Capital Méjico: la república federativa de *Guatemala*, su Capital Guatemala.

Qué otras poblaciones hay notables en esta América?

Jefferson al Oeste: *Augusta*, *Boston*, y *New-Yorch*. al Nordeste: *Baltimore*, *Richmon*, *Vandalia*, *Filadelfia* y *Francfort* en el centro: *Cahaba*, *Nueva Orleans*: *Penzacola*; *Virginia*, *la Florida*, *la Carolina*, *Zacatecas*, *Veracruz* y *Guanajuato* al Sur.

Cuáles son las principales producciones de esta América?

Oro, plata, cobre, plomo, estaño, azufre, mármoles, trigo, maíz, patatas, pieles, cacao, canela, azúcar, tabaco, cochinilla, maderas distinguidas, ciervos, búfalos, elefantes, cabras, osos blancos, castores, águilas y muchas aves diferentes de las de Europa.

Qué número de habitantes tiene la América MERIDIONAL?

Sobre diez y seis millones y medio.

Cuáles son sus límites?

Al NORTE la América Septentrional: al SUR el Occéano glacial Antártico: al ESTE el Occéano Atlántico, y al OESTE el gran Occéano.

Cuál es su temperatura?

Bajo el ECUADOR calor templado por los vientos y lluvias: al SUR mucho frío por causa de las perpetuas nieves de los Andes.

Se distinguen las razas de sus habitantes?

Sí Señor, pero solas tres que constituyen las tribus de *Caribes*, *Pampus* y *Patagonos*, generalmente por su ferocidad.

Qué distritos componen esta América?

Al NORTE *Colombia*, que abraza la república de

nueva Granada y su Capital es Bogotá; la del *Ecuador*, su Capital Quito; la de *Venezuela*, su Capital Caracas; la *Guyana Inglesa*, su Capital Strabrok; la *Guyana Olandesa*, su Capital Paramaribo, y la *Guyana Francesa*, su Capital Cayena. Al ESTE el Imperio del *Brasil*, su Capital Río Janeiro. Al OESTE la república del *Perú*, su Capital Lima. En el CENTRO la república de *Bolivia*, su Capital la Plata; el *Paraguay*, su Capital la Asunción. Al SUR la república de la *Plata* ó *Buenos Aires*, su Capital Buenos Aires; la de *Chile* su Capital Santiago; la del *Uragay*, su Capital Montevideo, y la *Patagonia* pais poco conocido.

Qué otras poblaciones notables hay en esta América?

Panamá, Cartajena y Varinas en la Colombia; Fernanbuco, San Salvador, Villarrica y San Pablo en el Brasil; Cuzco, Arequipa y Trujillo en el Perú, Paz y Potosi en Bolivia.

Cuales son las producciones principales?

Oro, plata, platina, mercurio, esmeraldas, cacao, azucar, tabaco, especias, quina, algodón, tigres, llamas, cebras y muchas aves distinguidas.

OCCEANIA.

¿ **Q**ué figura tiene la Oceanía?

La que se indica en la lámina número 8.

Qué tiene de notable la Oceanía?

Que se compone de un sin número de Islas situadas en el gran Océano. La mayor es tan estensa

como Europa, y se llama *Australia* ó nueva Holanda.

Qué número de habitantes tiene la Oceanía?

Se calcula en treinta millones.

Cuáles son sus límites?

El gran Océano en dirección á la América, y el Océano Indiano hácia el Asia.

Cuál es su temperatura?

Muy ardiente, pues su mayor parte está en la zona Tórrida, y el resto en la templada.

Qué gentes la habitan?

Los Maleses, Chinos, Negros y Europeos. El gran número de los indígenas de los puntos céntricos de algunas de las Islas, está todavía en el estado salvaje.

Cómo está distribuida la Oceanía?

En cuatro partes, que son, al NORTE la *Micronesia*; al ESTE la *Polinesia* que se divide en meridional y septentrional; al OESTE la *Malesia* y al SUR la *Melanesia*.

Cuáles son las Islas de que se compone la *Micronesia*?

Son las de Magallanes, las Marianas, las de Poleu, las Carolinas, las Malgraves, y las de Gilvert.

Cuáles son las que abraza la *Polinesia* meridional?

Las Marquesas, las de los Amigos, las de Cook, las de Taiti ó de la Sociedad, las de nueva Zelanda, las de Sala y otras.

Cuáles las de la *Polinesia* septentrional?

Todas las del Archipiélago llamado Sandvich.

Cuáles las de la *Malesia*?

Las Filipinas, Luzon, Manila, Mindano, Sonda, Sumatra, Java, Flores, Timor, Gilólo, las Célebres, el Archipiélago de Borneo, y las Molucas.

Cuáles las de la Melanesia?

La nueva Holanda la nueva Guinea, la de Diemen, la nueva Irlanda, la Luisiada, la nueva Calcedonia, la de Fidjus y otras.

Cuáles son las ciudades principales de la Oceanía?

Manila en Filipinas; *Batavia* en Java, *Sidney* y *Melvourne*, en la nueva Holanda; y Borneo. Manila pertenece á España, y en las demas tienen diversos establecimientos los Holandeses, Portugueses y Franceses.

Cuáles son las principales producciones de la Oceanía?

El árbol de pan, cacao, café, especias, palatas, seda, marfil, cerdos, tigres, elefantes, culebras enormes, coral y aves distinguidas.

ESPAÑA.

¿ **E**n qué parte del Globo está la España?

En el *Sur* ó medio dia de la Europa.

Que estension tiene?

Doscientas veinte leguas del *Este* al *Oeste*, ciento noventa de *Norte* á *Sur*, y quince mil novecientas cuadradas de superficie.

Cuál es su poblacion?

Quince millones y medio de habitantes dentro de la Península.

Cuál es su temperatura?

La mas benigna que se conoce por la variedad de su suelo compuesto en casi todas sus provincias, de llanuras, valles y montañas, pues su clima permite que á las producciones de los Trópicos, se unan en esta tierra fértil, las de las zonas templadas.

Cuáles son sus límites?

Al NORTE la Francia; al SUR Gibraltar, que pertenece á los ingleses; al OESTE el reino de Portugal, y en todo lo demas por el Sur el Mar Mediterráneo, y por el Noro-este el Océano Atlantico.

Qué figura tiene la España?

La que se indica en la lámina número 9.

Cómo está distribuida?

Antiguamente lo estaba en trece reinos ó distritos, que sustancialmente se conservan como Capitanías generales, y hoy lo está en cuarenta y ocho provincias inclusa en estas la de las Islas Baleares.

Cuáles eran los reinos antiguos?

Asturias su capital.	<i>Oviedo.</i>
Andalucía su capital.	<i>Sevilla.</i>
Aragon su capital.	<i>Zaragoza.</i>
Cataluña su capital.	<i>Barcelona.</i>
Castilla la nueva su capital.	<i>Madrid.</i>
Castilla la vieja su capital.	<i>Valladolid.</i>
Estremadura su capital.	<i>Badajoz.</i>
Galicia su capital.	<i>Santiago.</i>
Granada su capital.	<i>Granada.</i>
Guipúzcoa (ó vascongadas) su capital.	<i>Vitoria.</i>
Leon su capital.	<i>Leon.</i>
Navarra su capital.	<i>Pamplona.</i>
Valencia su capital.	<i>Valencia.</i>

Cuáles son las cuarenta y ocho provincias de su division actual?

Son las siguientes. (a).

	Habitantes.		Habitantes.
Alava.	93.398.	Lérida	306.994.
Albacete.	201.118.	Logroño.	173.812.
Alicante.	378.958.	Lugo.	424.186.
Almeria.	315.664.	Madrid.	475.785.
Avila.	164.039.	Malaga.	451.406.
Badajoz.	404.981.	Murcia.	380.969.
Baleares.	262.893.	Navarra.	297.422.
Barcelona.	713.734.	Orense.	371.818.
Burgos.	333.356.	Oviedo.	524.529.
Cáceres.	302.134.	Palencia.	185.970.
Cadiz.	390.192.	Pontevedra.	428.886.
Castellon	260.919.	Salamanca.	263.516.
Ciudad Real.	244.328.	Santander.	214.441.
Córdoba.	351.989.	Segovia.	146.839.
Coruña.	551.939.	Sevilla.	463.486.
Cuenca.	229.959.	Soria.	147.468.
Gerona.	310.970.	Tarragona.	320.593.
Granada.	441.917.	Teruel.	238.628.
Guadalajara.	199.088.	Toledo.	328.755.
Guipúzcoa.	156.493.	Valencia.	606.608.
Huelva.	174.391.	Vizcaya.	160.579.
Huesca.	257.839.	Valladolid.	244.023.
Jaen.	345.879.	Zamora.	249.162.
Leon.	348.756.	Zaragoza.	384.176.

Cuáles son los nombres de las Capitales de estas Provincias?

Los mismos que se dejan señalados, pues el

(a) El número de habitantes es el del censo del año de 1857.

nombre de la Ciudad se dió á la Provincia, escepto en las Vascongadas y Navarra, porque la Capital de Vizcaya es *Bilbao*, la de Alava *Vitoria*, la de Guipúzcoa *S. Sebastian* y la de Navarra *Pamplona*.

Qué posesiones tiene la España fuera de su terreno peninsular?

Tiene en el Mediterráneo las Islas *Chafarinas*, muy próximas á la Costa *Norte* de Africa, y las *Baleares* inmediatas á las provincias de Castellon y Tarragona, cuya Capital es Palma de Mallorca. En el Occéano Atlántico tiene las Islas *Canarias*, cuya Capital es *Santa Cruz de Tenerife*, y están inmediatas á la Costa *Sur* de Africa. Siguiendo esta Costa hácia el Oriente, tiene las Islas de *Fernandopó* y *Annobon* que están próximas á la Guinea superior. En tierra firme de Africa tiene las plazas de *Ceuta*, *Melilla* y el *Peñon* con diferentes terrenos inmediatos á ellas. En la Oceanía tiene las Islas Filipinas, de las que es Capital *Manila*, cercanas de la China, y en las Antillas Cuba y Puerto-rico, cuyas Capitales son la *Habana*, y la Ciudad de Puerto-rico.

Cuáles son los cabos mas notables de España?

El *Machichaco* que está en Vizcaya; el *Finisterre* en Galicia; el *Trafalgar* en Cádiz; el de *Gata* en Almería, y el de *Creus* en Gerona.

Cuáles son las cadenas principales de sus montes?

Las mas notables se pueden poner en tres secciones, á saber; Septentrional, Centro, y Meridional.

Cuáles pertenecen á la seccion Septentrional?

La cordillera de los *Pirineos* que separa la Espa-

ña de la Francia, y enlazando en seguida como continuacion de ella los montes *Cántabros*, sigue hasta el cabo Finisterre.

Cuáles forman la seccion central?

La cadena que empezando en Portugal con el nombre de la *Estrella*, entra en España y en su prolongacion va sucesivamente tomando los nombres de Sierra de *Gredos*, de *Francia*, de *Gata*, y admite en sus ramales otras mas céntricas llamadas de *Albaracin*, de *Moncayo* y de *Oca*.

Cuáles constituyen la seccion Meridional?

Las Cordilleras conocidas con los nombres de Sierra Morena, Alcaráz, Toledo, Segura, Ronda y Málaga.

Qué rios son los mas caudalosos é importantes de España?

El *Tajo*, que naciendo en la Sierra de Albaracin, pasa por Aranjuez, Toledo, Talavera, Almaraz, y Alcántara, y entrando en Portugal desagua en el Atlántico por Lisboa: el *Guadiana* que nace en las montañas de Ruidera, pasa por Castilla la Nueva y Estremadura, baña Mérida y Badajoz, y entrando en Portugal, desemboca por Ayamonte en el Atlántico: el *Duero* que naciendo en la cresta del monte Urbion, vá por Castilla la Vieja á Galicia, pasa por Orense, Lugo y Tui, y penetrando tambien en Portugal, se arroja al Atlántico por Oporto: el *Guadalquivir*, que nace en la Sierra de Segura, y pasando por Baeza, Andujar, Córdoba y Sevilla, muere en el Atlántico cerca de San Lucas de Barramedo: el *Ebro* que es el único gran rio que lleva

en España una dirección opuesta á los demás, nace en los montes próximos á Santander, y pasando por Castilla, Navarra, Aragon y Cataluña desaparece en el Mediterráneo cerca de Tortosa.

Cuáles son los medios de comunicación que tiene la España?

Son muchas sus carreteras, mas no llegan al número que demandan su importancia é intereses materiales. Sin embargo, actualmente tiene algunos canales y caminos de hierro, y es tanto el celo y esfuerzos que hace para aumentar estos, que pronto llegará el país en este ramo, á la altura que se merece y necesita, pues son muchas las provincias en que se están haciendo ferro-carriles.

Qué producciones son las del suelo español?

Toda clase de cereales y legumbres: aceite de oliva, vinos, arroz, seda, lino, cáñamo, pita, pleita, esparto, naranjas, limones, dátiles; muchas clases de frutas de corteza, de pepita y hueso, castañas, nueces, bellota y abundantes pastos y forrages. Plata, cobre, plomo, hierro, mármoles, alabastros, maderas, ganados vacuno, lanar, cabrío, de cerda, mular, caballar y asnal. En sus costas se pescan los peces y mariscos mas esquisitos de toda la Europa: se cultiva con buen éxito la caña de azúcar en algunas provincias, y en otras el *cactus* en que cria la cochinilla: hay en muchas venados, y en todas abundan las perdices, liebres y conejos. En algunas se encuentran osos, lobos y javalies; sus aguas potables son esquisitas y muy numerosas las medicinales. Es de todas las

naciones de Europa, la mas favorecida por la Naturaleza.

Qué religion profesan los españoles ?

La Católica, Apostólica, Romana, y es tambien la religion del Estado. No permiten ningun otro culto.

Qué clase de Gobierno hay en España ?

El de Monarquía Constitucional, con dos Cámaras llamadas *Córtes*; la una de Senadores nombrados por la Corona, y la otra de *Diputados* nombrados por el pueblo, para lo cual los individuos que tienen derecho de votacion se constituyen en Colegios electorales.

Qué division tiene la España para su administracion político-económica ?

La que se ha marcado de cuarenta y ocho provincias. En cada una hay un Gobernador civil, autoridad superior de ella, nombrado por el Gobierno; así como una Diputacion provincial nombrada esta por el pueblo, en la misma forma que los Diputados á *Córtes*. Y en las Islas tiene autoridades análogas.

Cómo está distribuida la España para la administracion de Justicia ?

Cada Provincia está subdividida en Partidos judiciales: ante el respectivo Juez de Partido se entablan los pleitos y causas en primera instancia; sus fallos van en apelacion á la Audiencia territorial de la Provincia, y de esta al Supremo tribunal de Casacion, los que segun las leyes pueden tener este último trámite.

Cuál es la distribucion militar ?

Lo está en catorce Capitanías generales, trece de ellas dentro del territorio peninsular y una en las Islas Baleares. Además tiene su respectivo Capitan general en las Islas Canarias, en las de Cuba y Puerto Rico, y en Filipinas. En cada una hay un Capitan general con su respectivo Estado Mayor; un Juzgado ordinario de guerra, con cuyo Auditor letrado conoce el Capitan general de todos los asuntos civiles y criminales contenciosos de los aforados, y cuyos fallos van en apelacion al Supremo tribunal de Guerra y Marina, así como un Intendente que tiene á su cargo la administracion y empleo de los fondos que el Gobierno destina para las atenciones militares del Distrito.

Cuál es la Division Eclesiástica de España?

La antigua, que aun subsiste, consta de nueve Arzobispados y cincuenta y un Obispados.

Qué Obispados son sufragáneos de los Arzobispados?

Del de *Toledo* son los de Cartajena, Córdoba, Cuenca, Jaen, Osma y Sigüenza.

Del de *Burgos* son los de Calahorra, Leon, Pálenca, Pamplona, Santander y Tudela.

Del de *Granada* son los de Almería y Guadix.

Del de *Santiago* son los de Badajóz, Ciudad-Rodrigo, Coria, Lugo, Mondoñedo, Orense, Oviedo, Plasencia y Tui.

Del de *Sevilla* son los de Cádiz, Canarias, Ceuta, Málaga y Tenerife.

Del de *Farragona* son los de Barcelona, Gerona, Ibiza, Lérida, Solsona, Tortosa, Urgel y Vich.

Del de *Valencia* son los de *Mallorca*, *Menorca*, *Oribuela* y *Segorbe*.

Del de *Valladolid* son los de *Astorga*, *Avila*, *Salamanca*, *Segovia* y *Zamora*.


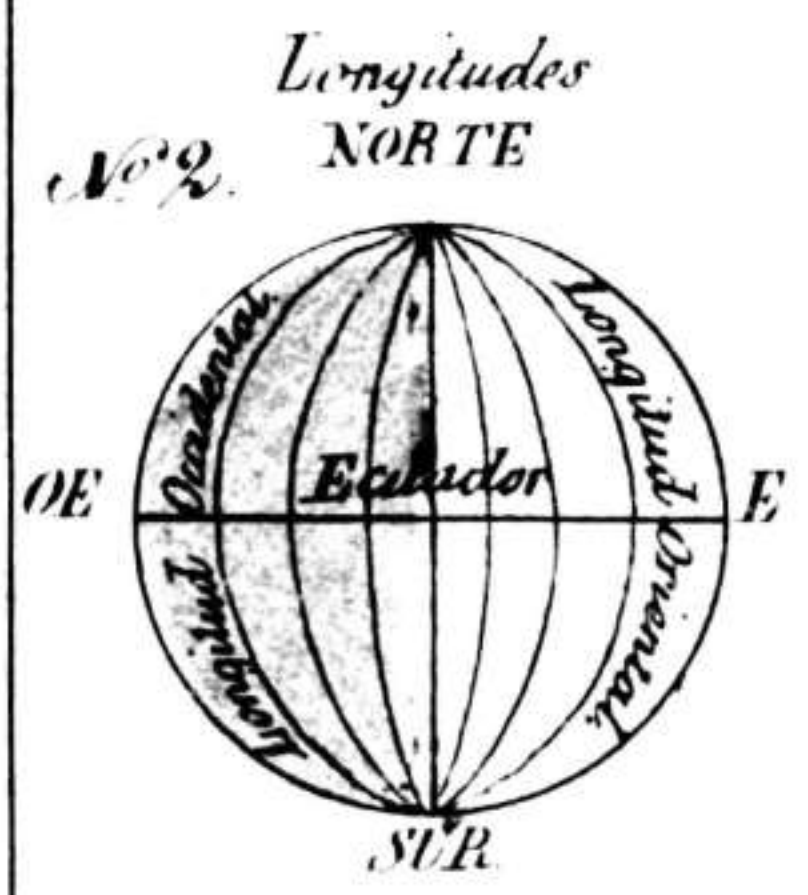
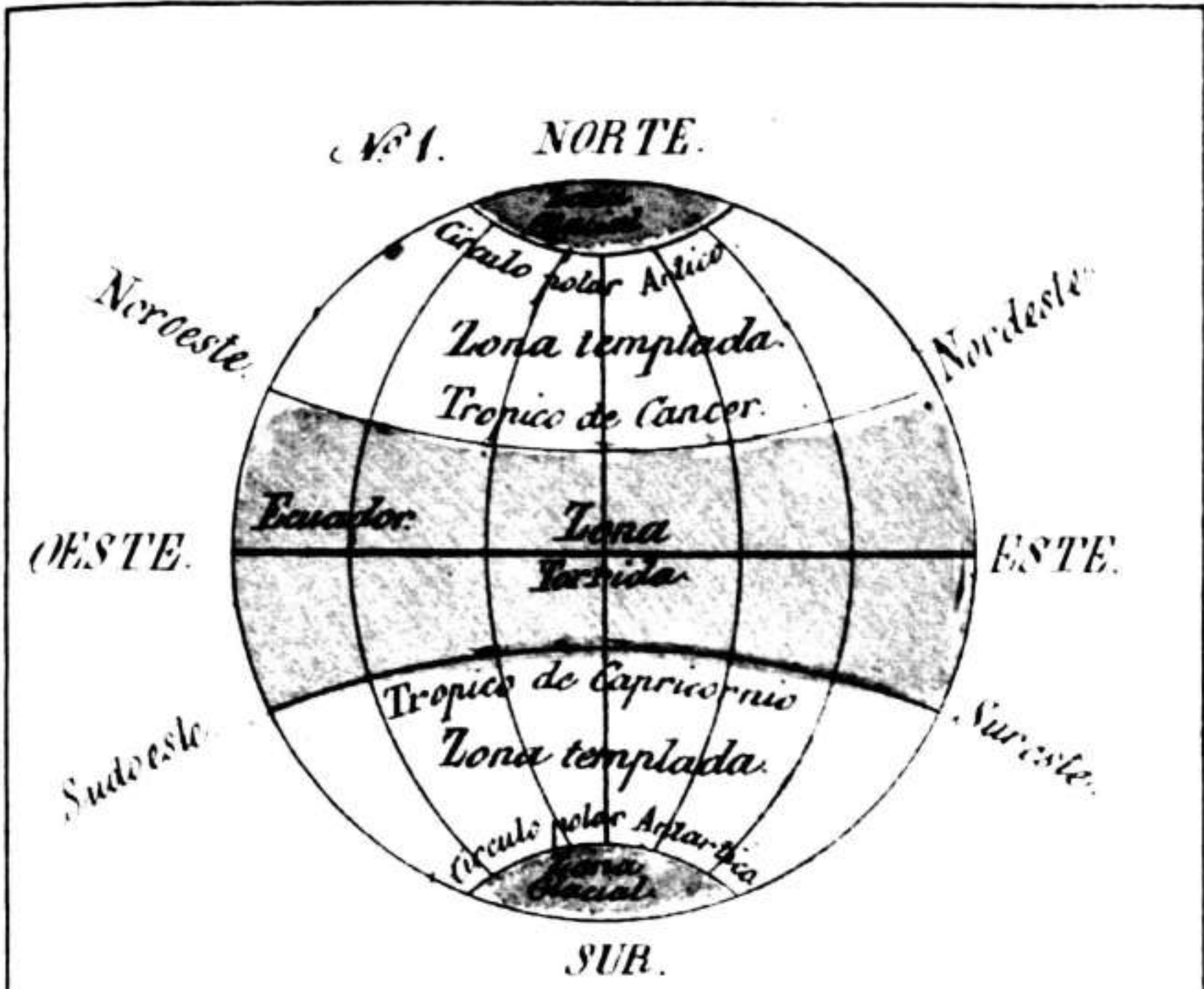
Del de *Zaragoza* son los de *Albaracin*, *Barbastro*, *Huesca*, *Jaca*, *Tarazona* y *Teruel*.

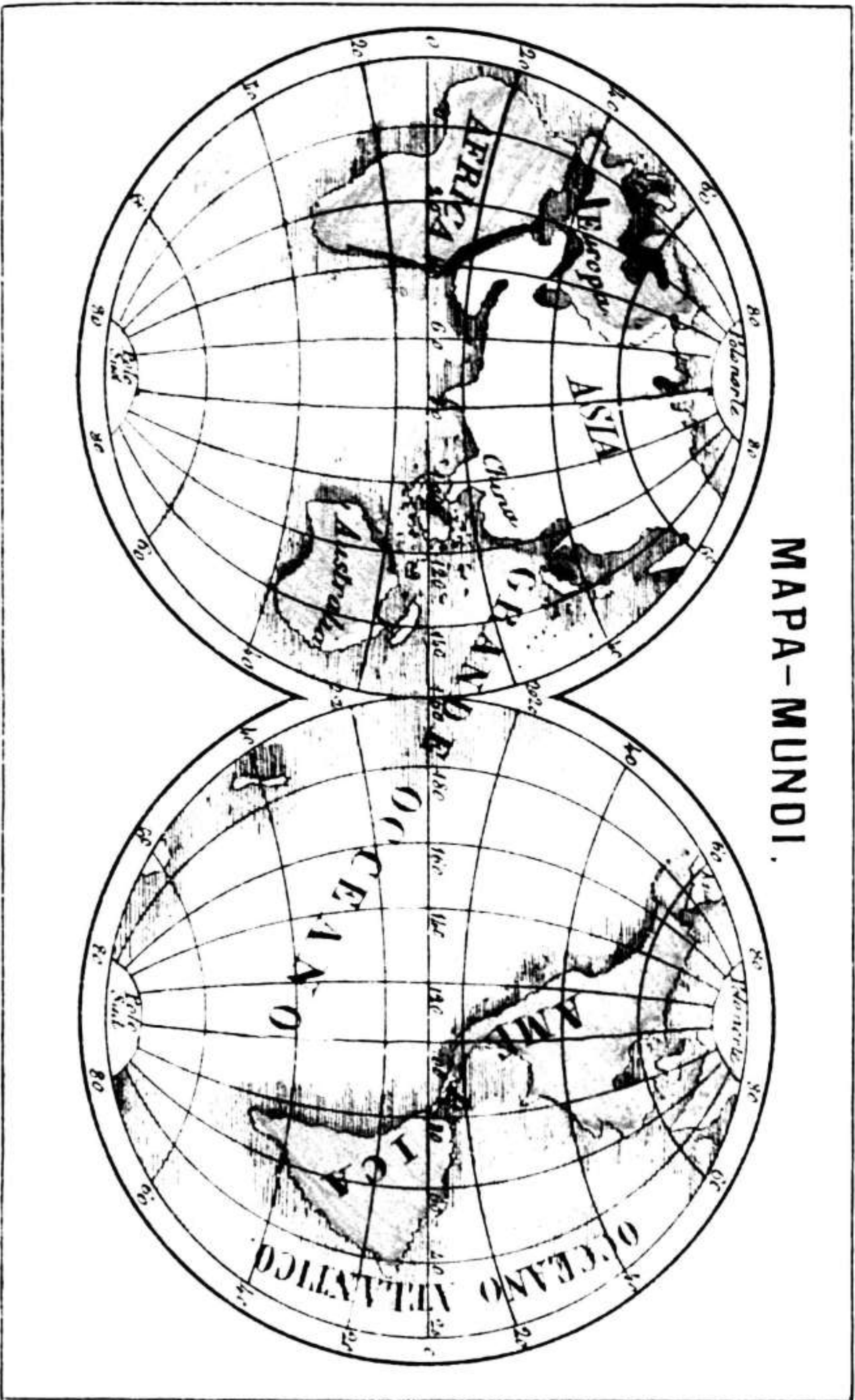
Está regularizado el Distrito de cada Diocesano?

No Señor, es muy desproporcionado é informe, pero lo estará cuando se plantee la subdivision acordada en el último Concordato, pues por ella se suprimen cinco Obispados, y se regularizan los territorios de las Diócesis.

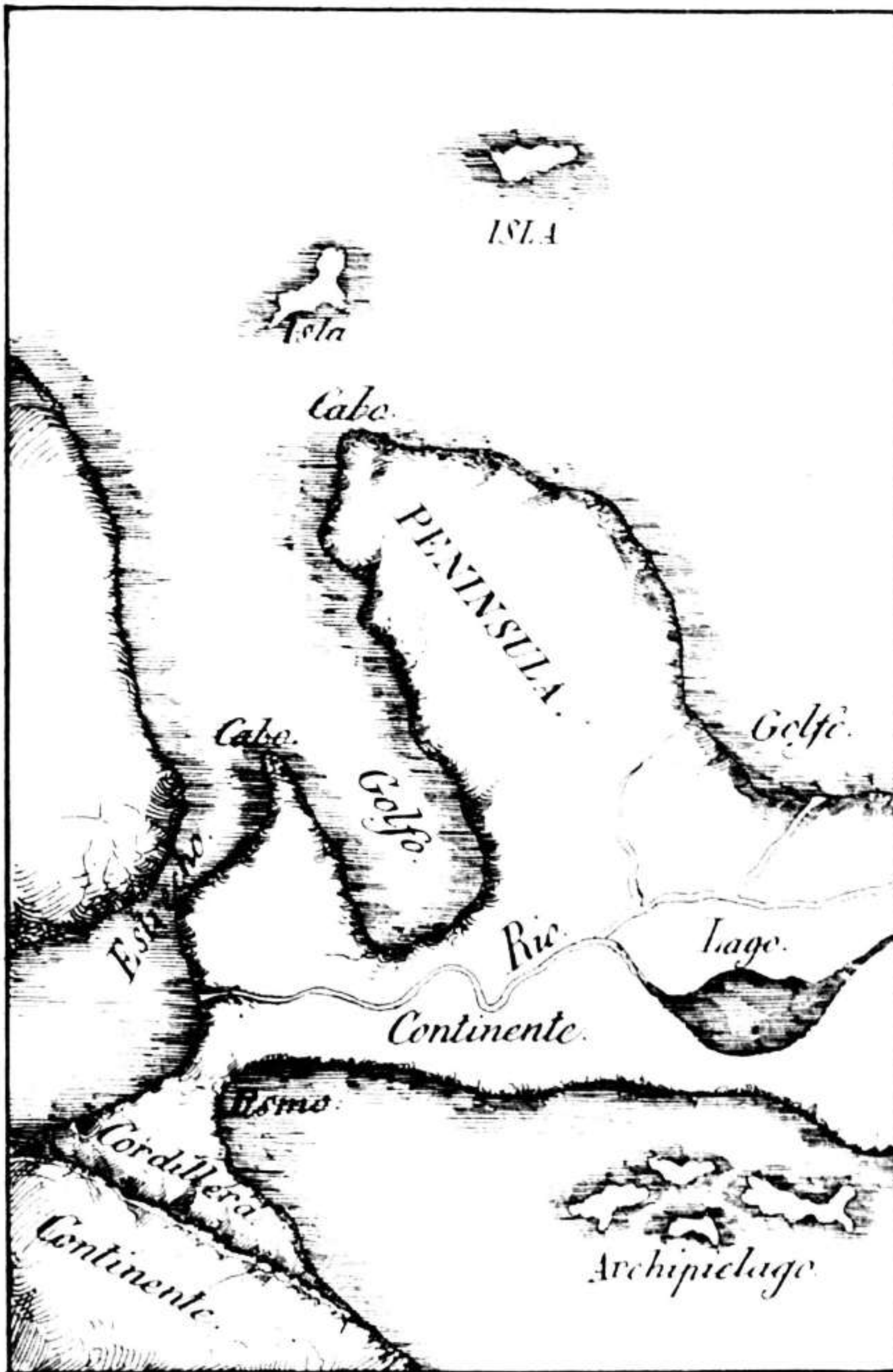
Hay mas cosas notables en España?

Sí Señor, y tambien las hay en todas las partes que se han indicado del Globo, y de sus habitantes; pero su esplicacion, como estraña de lo elemental, pertenece á tratados y descripciones muy estensos y detallados, útiles solamente para las personas que por curiosidad ó por necesitarlo en sus carreras, deben estudiar la Geografía en toda su estension y detalles.





Forma 2a

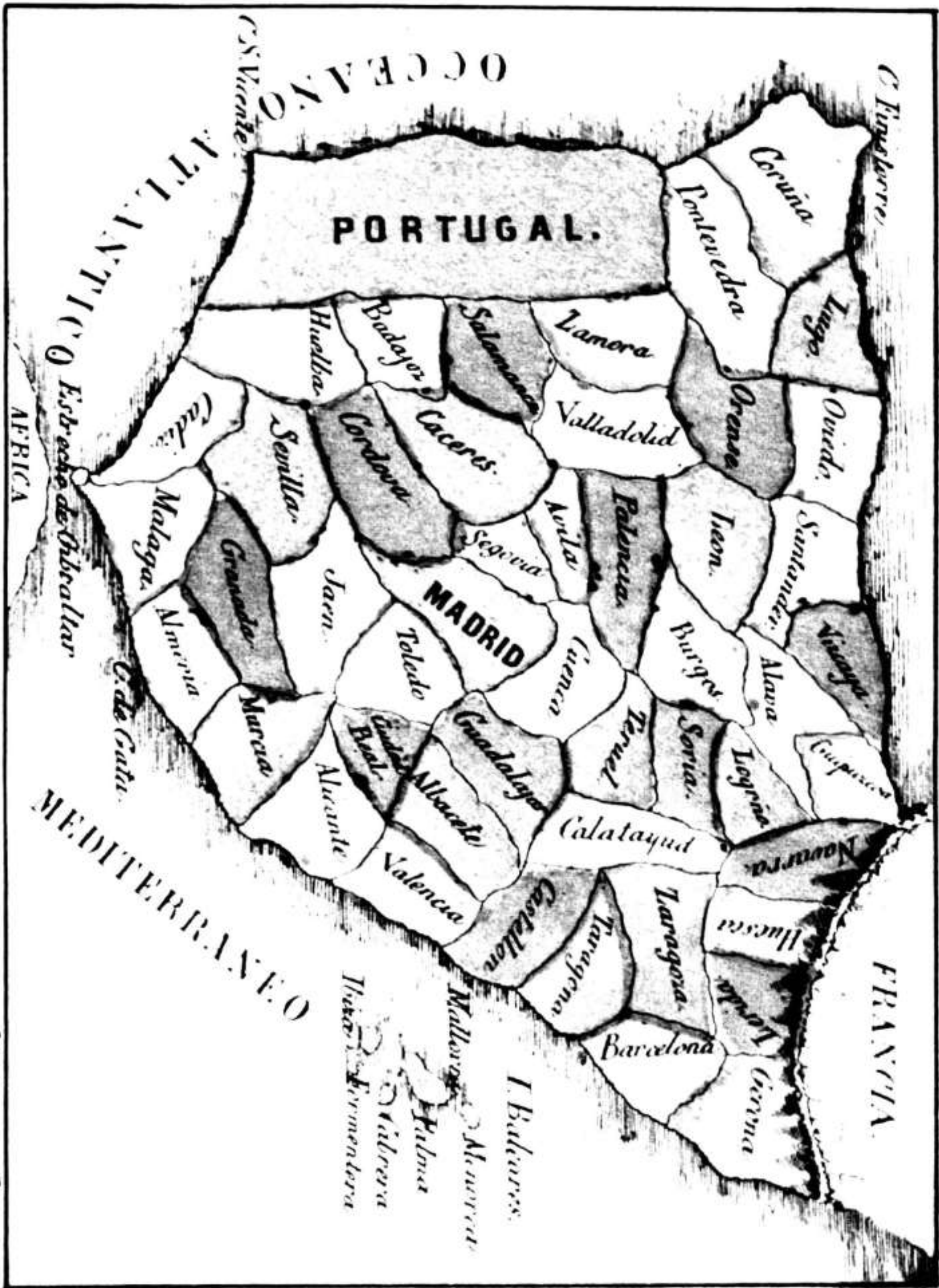


ASIA.



Janssonia





Fil. Aguirre Tanga

